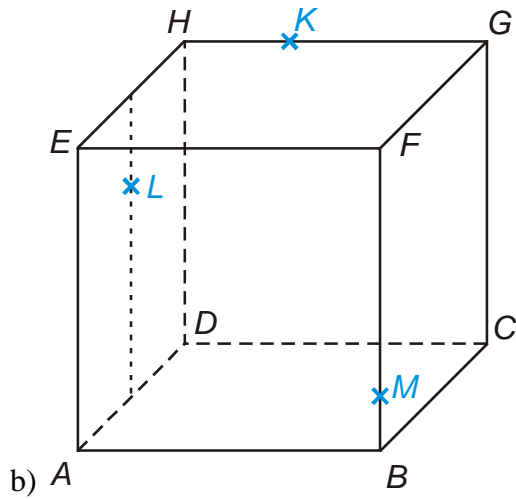
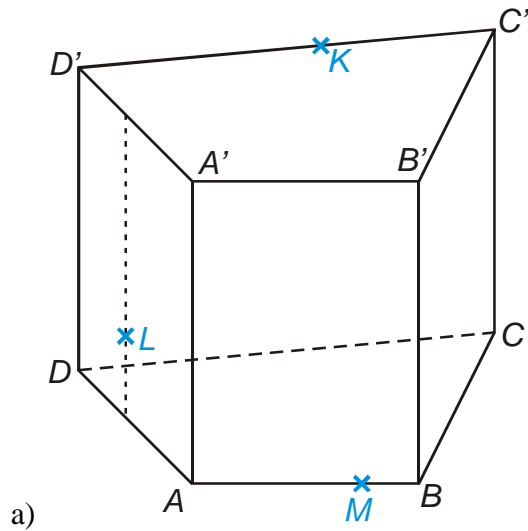


### 5.1.11 Řezy těles rovinou III

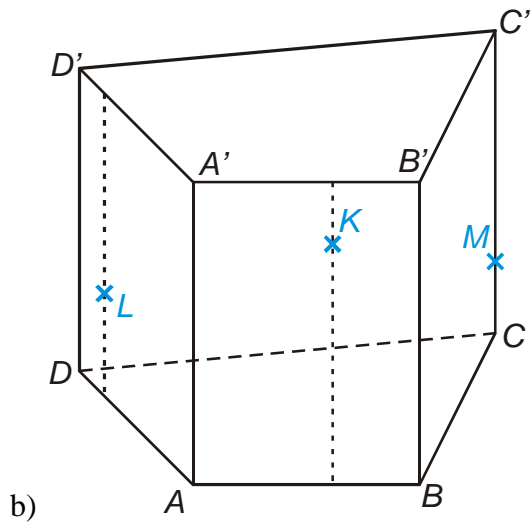
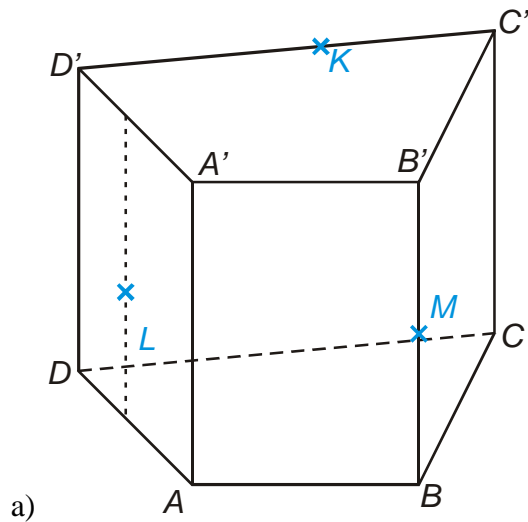
**Př. 1:** Je dána standardní krychle  $ABCDEFGH$ . Sestroj řez této krychle rovinou  $S_{BC}S_{AE}S_{GH}$ .

**Př. 2:** Je dána standardní krychle  $ABCDEFGH$ . Sestroj řez této krychle rovinou  $S_{AD}S_{CG}S_{EF}$ .

**Př. 3:** Sestroj řezy těles rovinami určenými  $KLM$ .



**Př. 4:** Sestroj řezy těles rovinami určenými  $KLM$ .



**Př. 5:** Petáková:  
strana 90/cvičení 7 a) b) d)