

## 10.1.5 Okolí bodu

**Předpoklady:** 2401

**Pedagogická poznámka:** Hodina zjevně překračuje možnosti většiny studentů v 45 minutách. Myslím, že nemá cenu přetahovat do další hodiny, příklady s redukovánými okolími nejsou nutné, je pouze potřeba, aby studenti pojem redukováného okolí slyšeli a také aby se pokusili vyrobit závěrečnou přehlednou tabulku, která napomáhá zapamatování a odhaluje souvislosti.

Co znamenají slova spojitost a limita víme, ale nedokážeme to matematicky exaktně popsat. Než se k tomu dostaneme, musíme se naučit pracovat s několika jednoduchými pojmy, které se v této části matematiky používají. Není na nich nic těžkého, jde pouze o to, abychom si je zažili a ony nám nečinily potíže ve chvílích, kdy budeme muset uvažovat o jiných problémech.

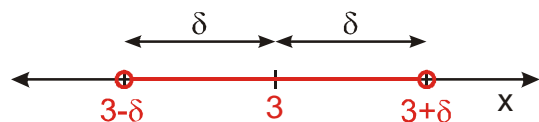
Jak u spojitosti, tak u limit jsme zkoumali, jak se hodnoty funkce mění, když se  $x$  blíží k nějaké hodnotě (třeba u  $\lim_{x \rightarrow 2} f(x)$  když  $x$  se blíží 2), jinými slovy co se děje, když  $x$  je okolo bodu 2.

Definice:

Okolím bodu  $a$  ( $\delta$ -okolím bodu  $a$ ) se nazývá otevřený interval  $(a - \delta; a + \delta)$ , kde  $\delta$  je libovolné kladné reálné číslo. Číslo  $a$  se nazývá střed okolí, číslo  $\delta$  se nazývá poloměr okolí.  $\delta$ -okolí bodu  $a$  značíme  $U_\delta(a)$ .

**Poznámka:** Různá okolí bodu se neznačí v matematice jednotně. Klasická gymnazijní sada používá značení pomocí speciálního znaku podobného tiskacímu U bez indexu  $\cup(a, \delta)$  nebo  $\cup(a)$ , v jiné literatuře se objevují například prokládaná písmena  $\mathcal{U}_\delta(a)$ . My se budeme držet (podobně jako v kombinatorice) využívání indexu, abychom rozlišili rozdílný význam obou čísel pro okolí  $U_\delta(a)$ :  $\delta$  = poloměr, vzdálenost;  $a$  = střed okolí, hodnota proměnné. V poznámkách pod každou z definic pak zmíníme jiné druhy značení.

**Př. 1:** Na číselné ose nakresli libovolné  $\delta$ -okolí čísla 3.



Vytvoříme libovolný otevřený interval se středem v bodě 3.

**Pedagogická poznámka:** Někteří studenti mají problémy s tím, že není stanovena velikost okolí. Je dobré jim vysvětlit, že v případě, že osa není očíslována (pouze číslem 3), je úplně jedno jak okolí udělají velké.

**Př. 2:** Na číselné ose nakresli a zapiš intervalem:

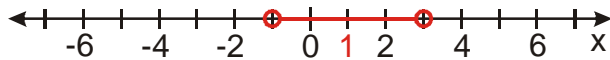
a)  $U_2(1)$

b)  $U_{0,5}(2)$

c)  $U_1(-3)$

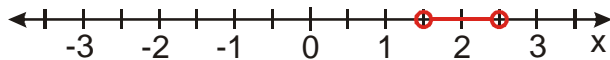
d)  $U_{-0,5}(5)$

a)  $U_2(1)$  = okolí bodu 1 s poloměrem 2



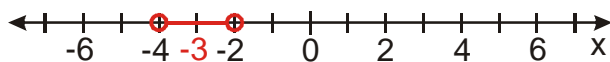
$$U_2(1) = (1-2; 1+2) = (-1; 3)$$

b)  $U_{0,5}(2)$  = okolí bodu 2 s poloměrem 0,5



$$U_{0,5}(2) = (2-0,5; 2+0,5) = (1,5; 2,5)$$

c)  $U_1(-3)$  = okolí bodu -3 s poloměrem 1



$$U_1(-3) = (-3-1; -3+1) = (-4; -2)$$

d)  $U_{-0,5}(5)$  = nesmysl, bod 5 nemůže mít okolí s poloměrem  $-0,5$

**Př. 3:** Zapiš řešení nerovnice  $|x-2| < 0,5$  jako okolí bodu (radý: pro řešení nerovnice použij význam absolutní hodnoty z rozdílu dvou čísel, řešení si nakresli na číselnou osu).

Význam absolutní hodnoty z rozdílu dvou čísel:  $|x-a|$  = vzdálenost obrazů čísel  $x$  a  $a$  na číselné ose

$\Rightarrow |x-2| < 0,5$  hledáme čísla, která jsou od čísla 2 vzdálena méně než o 0,5  $\Rightarrow$

$$K = (1,5; 2,5) = U_{0,5}(2)$$

$\Rightarrow U_\delta(a)$  tvoří všechna reálná čísla  $x$ , která vyhovují nerovnostem:  $a-\delta < x < a+\delta$ , zkráceně zapsáno  $|x-a| < \delta$ .

**Př. 4:** Zapiš intervaly jako okolí bodu. Každé okolí pak vyjádři nerovnicí s absolutní hodnotou.

a)  $(1,9; 2,1)$

b)  $(1; 5)$

c)  $(1; 4)$

d)  $(2; 4)$

e)  $(-3; 1)$

a)  $(1,9; 2,1)$

střed intervalu = průměr krajních čísel:  $\frac{1,9+2,1}{2} = 2 \Rightarrow$  poloměr okolí:  $2,1-2 = 0,1$

$$(1,9; 2,1) = U_{0,1}(2) \Rightarrow x \in R, |x-2| < 0,1$$

b)  $(1; 5)$

střed intervalu = průměr krajních čísel:  $\frac{1+5}{2} = 3 \Rightarrow$  poloměr okolí:  $5 - 3 = 2$

$$(1;5) = \mathbf{U}_2(3) \Rightarrow x \in R, |x-3| < 2$$

c) (1;4)

střed intervalu = průměr krajních čísel:  $\frac{1+4}{2} = 2,5 \Rightarrow$  poloměr okolí:  $4 - 2,5 = 1,5$

$$(1;4) = \mathbf{U}_{1,5}(2,5) \Rightarrow x \in R, |x-2,5| < 1,5$$

d)  $(2;4)$  - nejde zapsat jako okolí bodu, nejde o otevřený interval

e)  $(-3;1)$

střed intervalu = průměr krajních čísel:  $\frac{-3+1}{2} = -1 \Rightarrow$  poloměr okolí:  $1 - (-1) = 2$

$$(-3;1) = \mathbf{U}_2(-1) \Rightarrow x \in R, |x - (-1)| = |x+1| < 2$$

**Pedagogická poznámka:** Protože v následujících hodinách budeme často zápisy pomocí nerovnice s absolutní hodnotou používat, trvám na tom, aby je studenti psali a tak si na ně zvykli.

Protože jsme v předchozích hodinách neurčovali pouze spojitost a limitu v bodě, ale i spojitost (limitu) zleva (případně zprava), nebude nám stačit pouze okolí bodu (jde na obě strany). Musíme si zavést i levé (pravé) okolí bodu.

**Př. 5:** Zapiš definici levého (pravého)  $\delta$ -okolí bodu  $a$  (pouze analogii první věty v definici okolí bodu).

**Levým okolím bodu  $a$**  (levým  $\delta$ -okolím bodu  $a$ ) se nazývá polouzavřený interval  $(a - \delta; a)$ , kde  $\delta$  je libovolné kladné reálné číslo. Levé  $\delta$ -okolí bodu  $a$  značíme  $\mathbf{U}_\delta^-(a)$ .

**Pravým okolím bodu  $a$**  (pravým  $\delta$ -okolím bodu  $a$ ) se nazývá polouzavřený interval  $\langle a; a + \delta \rangle$ , kde  $\delta$  je libovolné kladné reálné číslo. Pravé  $\delta$ -okolí bodu  $a$  značíme  $\mathbf{U}_\delta^+(a)$ .

Pomocí nerovností píšeme:

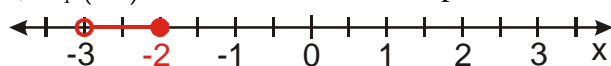
$$\mathbf{U}_\delta^-(a) = \{x \in R; a - \delta < x \leq a\}$$

$$\mathbf{U}_\delta^+(a) = \{x \in R; a \leq x < a + \delta\}$$

**Př. 6:** Na číselné ose nakresli, zapiš intervalem a pomocí nerovnosti:

a)  $\mathbf{U}_1^-(-2)$       b)  $\mathbf{U}_{0,5}^+(-2)$       c)  $\mathbf{U}_{0,5}^+(0)$

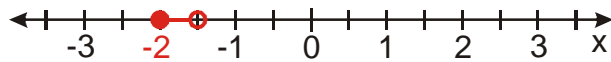
a)  $\mathbf{U}_1^-(-2)$  = levé okolí bodu -2 s poloměrem 1



$$\mathbf{U}_1^-(-2) = (-2 - 1; -2) = (-3; -2)$$

$$\mathbf{U}_1^-( -2) = \{x \in \mathbb{R}; -3 < x \leq -2\}$$

b)  $\mathbf{U}_{0,5}^+( -2) =$  pravé okolí bodu  $-2$  s poloměrem  $0,5$



$$\mathbf{U}_{0,5}^+( -2) = \langle -2; -2 + 0,5 \rangle = \langle -2; -1,5 \rangle$$

$$\mathbf{U}_{0,5}^+( -2) = \{x \in \mathbb{R}; -2 \leq x < -1,5\}$$

c)  $\mathbf{U}_{0,5}^+( 0) =$  pravé okolí bodu  $0$  s poloměrem  $0,5$



$$\mathbf{U}_{0,5}^+( 0) = \langle 0; 0 + 0,5 \rangle = \langle 0; 0,5 \rangle$$

$$\mathbf{U}_{0,5}^+( 0) = \{x \in \mathbb{R}; 0 \leq x < 0,5\}$$

**Př. 7:** Zapiš intervaly jako okolí bodu:

a)  $\langle 2; 2, 2 \rangle$

b)  $(-2; 1)$

c)  $\langle 0, 997; 1 \rangle$

a)  $\langle 2; 2, 2 \rangle$

střed okolí:  $2 \Rightarrow$  poloměr okolí:  $2, 2 - 2 = 0, 2$

$$\langle 2; 2, 2 \rangle = \mathbf{U}_{0,2}^+( 2)$$

b)  $(-2; 1)$

střed okolí:  $1 \Rightarrow$  poloměr okolí:  $1 - (-2) = 3$

$$(-2; 1) = \mathbf{U}_3^-( 1)$$

c)  $\langle 0, 997; 1 \rangle$

střed okolí:  $0, 997 \Rightarrow$  poloměr okolí:  $1 - 0, 997 = 0, 003$

$$\langle 0, 997; 1 \rangle = \mathbf{U}_{0,003}^+( 0, 997)$$

Při určování limit na hodnotě v bodě vůbec nezáleží  $\Rightarrow$  z našich úvah ji tedy vynecháme a samotný bod, ve kterém limitu hledáme, budeme ignorovat  $\Rightarrow$

**Definice:**

Redukovaným okolím bodu  $a$  (redukovaným  $\delta$ -okolím bodu  $a$ ) se nazývá množina  $(a - \delta; a + \delta) - \{a\}$ , kde  $\delta$  je libovolné kladné reálné číslo. Číslo  $a$  se nazývá střed okolí, číslo  $\delta$  se nazývá poloměr okolí. Redukované  $\delta$ -okolí bodu  $a$  značíme  $\mathbf{R}_\delta(a)$ .

**Poznámka:** Ve značení redukovaných (prstencových) okolí je ještě větší zmatek než ve značení normálních okolí. Někdy se vychází ze značení normálního okolí přidáním indexu  $\mathbf{U}^\oplus(a, \delta)$  nebo  $\mathbf{U}^\oplus(a)$ , jinde se používá jiné písmeno  $\mathfrak{P}_\delta(a)$ . My se budeme postupovat

stejně jako u normálního okolí s tím, že zamění písmeno U písmenem R. Všechna ostatní pravidla budou pro oba druhy okolí stejná.

**Př. 8:** Přečti následujících označení, sestav jejich definice a zapiš je jako množiny:

a)  $\mathbf{R}_\delta^+(a)$

b)  $\mathbf{R}_\delta^-(a)$

a)  $\mathbf{R}_\delta^+(a)$  = pravé redukované  $\delta$ -okolí bodu  $a$

**Pravým redukovaným okolím bodu  $a$**  (pravým redukovaným  $\delta$ -okolím bodu  $a$ ) se nazývá otevřený interval  $(a; a + \delta)$ , kde  $\delta$  je libovolné kladné reálné číslo.

$$\mathbf{R}_\delta^+(a) = \{x \in R; a < x < a + \delta\}$$

b)  $\mathbf{R}_\delta^-(a)$

**Levým redukovaným okolím bodu  $a$**  (levým redukovaným  $\delta$ -okolím bodu  $a$ ) se nazývá otevřený interval  $(a - \delta; a)$ , kde  $\delta$  je libovolné kladné reálné číslo.

$$\mathbf{R}_\delta^-(a) = \{x \in R; a - \delta < x < a\}$$

**Př. 9:** Zapiš intervalem (sjednocením intervalů) a vyznač na ose:

a)  $\mathbf{R}_{0,1}(1,5)$

b)  $\mathbf{R}_{0,02}^+(1,42)$

c)  $\mathbf{R}_2^-(-1)$

a)  $\mathbf{R}_{0,1}(1,5)$  = redukované okolí bodu 1,5 s poloměrem 0,1

$$\mathbf{R}_{0,1}(1,5) = (1,4; 1,5) \cup (1,5; 1,6)$$

b)  $\mathbf{R}_{0,02}^+(1,42)$  = pravé redukované okolí bodu 1,42 s poloměrem 0,02

$$\mathbf{R}_{0,02}^+(1,42) = (1,42; 1,42 + 0,02) = (1,42; 1,44)$$

c)  $\mathbf{R}_2^-(-1)$  = levé redukované okolí bodu -1 s poloměrem 2

$$\mathbf{R}_2^-(-1) = (-1 - 2; -1) = (-3; -1)$$

**Př. 10:** Sestav přehled různých druhů okolí bodu.

Všechny druhy okolí můžeme zapsat do tabulky.

	oboustranné	levé	pravé
obsahuje střed	$\mathbf{U}_\delta(a)$	$\mathbf{U}_\delta^-(a)$	$\mathbf{U}_\delta^+(a)$
neobsahuje střed	$\mathbf{R}_\delta(a)$	$\mathbf{R}_\delta^-(a)$	$\mathbf{R}_\delta^+(a)$

**Shrnutí:** Čísla, která obklopují nějaké číslo, zapisujeme pomocí okolí – otevřených nebo polouzavřených intervalů.